



Tal-gåder - subtraktion 1

- side 11 -

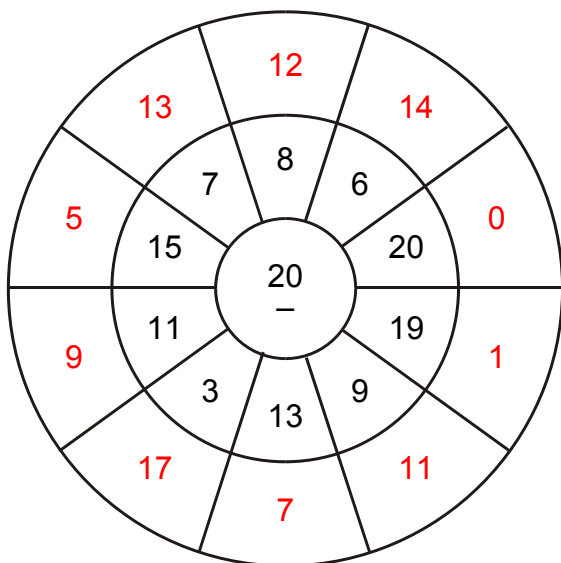
tal mellem 1 og 100

Copyright (c) Baskerville Forlag og Jørgen Rosenkvist Nielsen

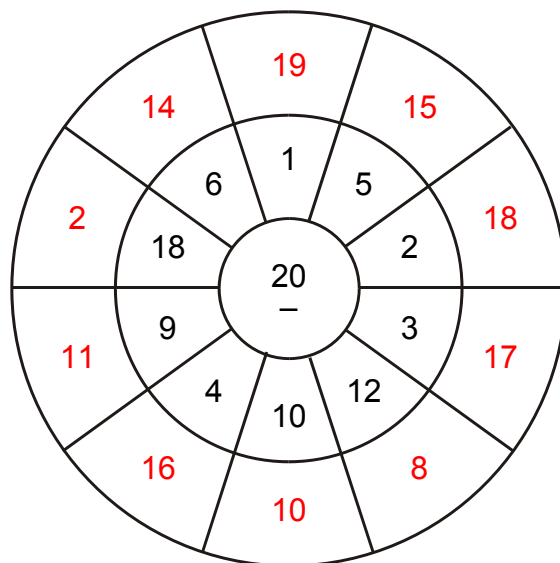
Subtraktion (minus-stykker) med tal mellem 1 og 100.
Hent opgaven til denne side på Depotet:
www.123abc.dk

Se på tallet i midten.
Træk tallene i den næste ring fra.
Skriv resultatet i den yderste ring.

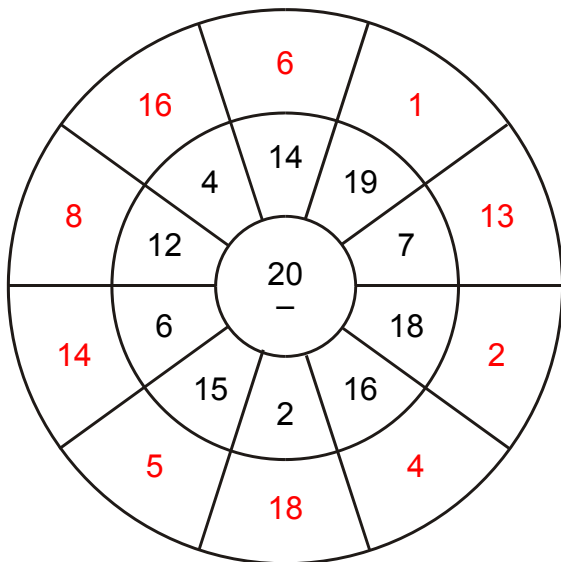
1.



2.



3.



4.

